

Σχολείο: 7<sup>ο</sup> Δημοτικό Σχολείο Ασπροπύργου  
Τάξη: Α

**ΜΑΘΗΜΑ: ΜΑΘΗΜΑΤΙΚΑ**  
**ΠΡΟΣΘΕΣΗ(+)**      **ΑΦΑΙΡΕΣΗ(-)**


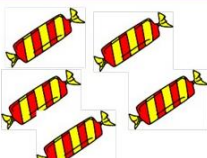
**ΠΡΟΣΘΕΣΗ**

☺ Πρόσθεσε τα λαχταριστά γλυκάκια και γράψε στο κουτάκι πόσα είναι όλα μαζί.

	+		$2 + 2 =$	<input type="text" value="4"/>
---	---	---	-----------	--------------------------------

	+		$3 + 3 =$	<input type="text" value="6"/>
--	---	--	-----------	--------------------------------

	+		$4 + 4 =$	<input type="text" value="8"/>
---	---	---	-----------	--------------------------------

	+		$5 + 5 =$	<input type="text" value="10"/>
---	---	---	-----------	---------------------------------

☺ Κάνε τις προσθέσεις και γράψε τα αποτελέσματα.

$5 + 5 = 10$

$6 + 6 = 12$

$9 + 2 = 11$

$10 + 5 = 15$

$10 + 9 = 19$


$10 + 10 = 20$

## ΑΦΑΙΡΕΣΗ

☺ Βγάλε όσα διαγράφονται με γραμμές. Κάνε τις αφαιρέσεις και γράψε το αποτέλεσμα στο κουτάκι.



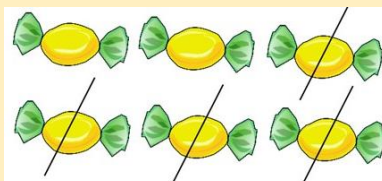
$$5 - 3 = \boxed{2}$$



$$4 - 2 = \boxed{2}$$



$$9 - 5 = \boxed{4}$$



$$6 - 4 = \boxed{2}$$

☺ Κάνε τις αφαιρέσεις και γράψε τα αποτελέσματα.

$$5 - 2 = 3$$

$$6 - 1 = 5$$

$$9 - 3 = 6$$

$$10 - 5 = 5$$

$$10 - 9 = 1$$

$$10 - 10 = 0$$