

Σχολείο: 7<sup>ο</sup> Δημοτικό Σχολείο Ασπροπύργου  
Τάξη: Α

**ΜΑΘΗΜΑ: ΜΑΘΗΜΑΤΙΚΑ**  
**ΠΡΟΣΘΕΣΗ(+)**      **ΑΦΑΙΡΕΣΗ(-)**

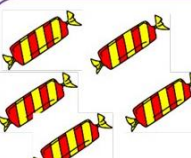
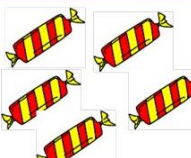
**ΠΡΟΣΘΕΣΗ**

☺ Πρόσθεσε τα λαχταριστά γλυκάκια και γράψε στο κουτάκι πόσα είναι όλα μαζί.

	+		$2 + 2 = \square$
---	---	---	-------------------

	+		$3 + 3 = \square$
--	---	--	-------------------

	+		$4 + 4 = \square$
---	---	---	-------------------

	+		$5 + 5 = \square$
---	---	---	-------------------

☺ Κάνε τις προσθέσεις και γράψε τα αποτελέσματα.

$5 + 5 =$

$6 + 6 =$

$9 + 2 =$

$10 + 5 =$

$10 + 9 =$


$10 + 10 =$

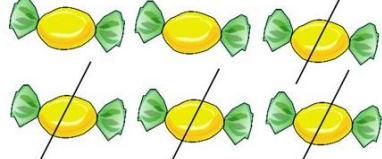
## ΑΦΑΙΡΕΣΗ

☺ Βγάλε όσα διαγράφονται με γραμμές. Κάνε τις αφαιρέσεις και γράψε το αποτέλεσμα στο κουτάκι.

	$5 - 3 = \square$
---	-------------------

	$4 - 2 = \square$
---	-------------------

	$9 - 5 = \square$
--	-------------------

	$6 - 4 = \square$
---	-------------------

☺ Κάνε τις αφαιρέσεις και γράψε τα αποτελέσματα.

$5 - 2 =$

$6 - 1 =$

$9 - 3 =$

$10 - 5 =$

$10 - 9 =$

$10 - 10 =$