

Σχολείο: 7^ο Δημοτικό Σχολείο Ασπροπύργου
Τάξη: Α

ΜΑΘΗΜΑ: ΜΑΘΗΜΑΤΙΚΑ

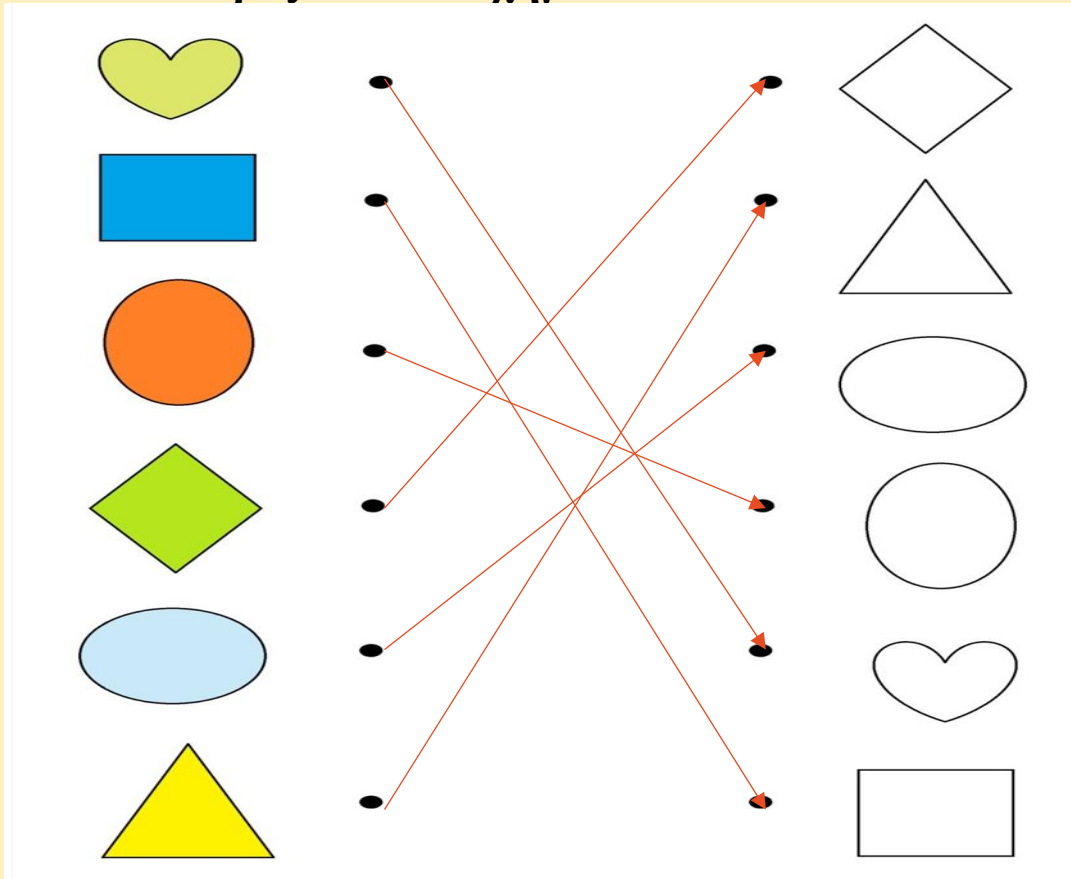
ΓΕΩΜΕΤΡΙΚΑ ΣΧΗΜΑΤΑ – ΛΥΣΕΙΣ ΑΣΚΗΣΕΩΝ



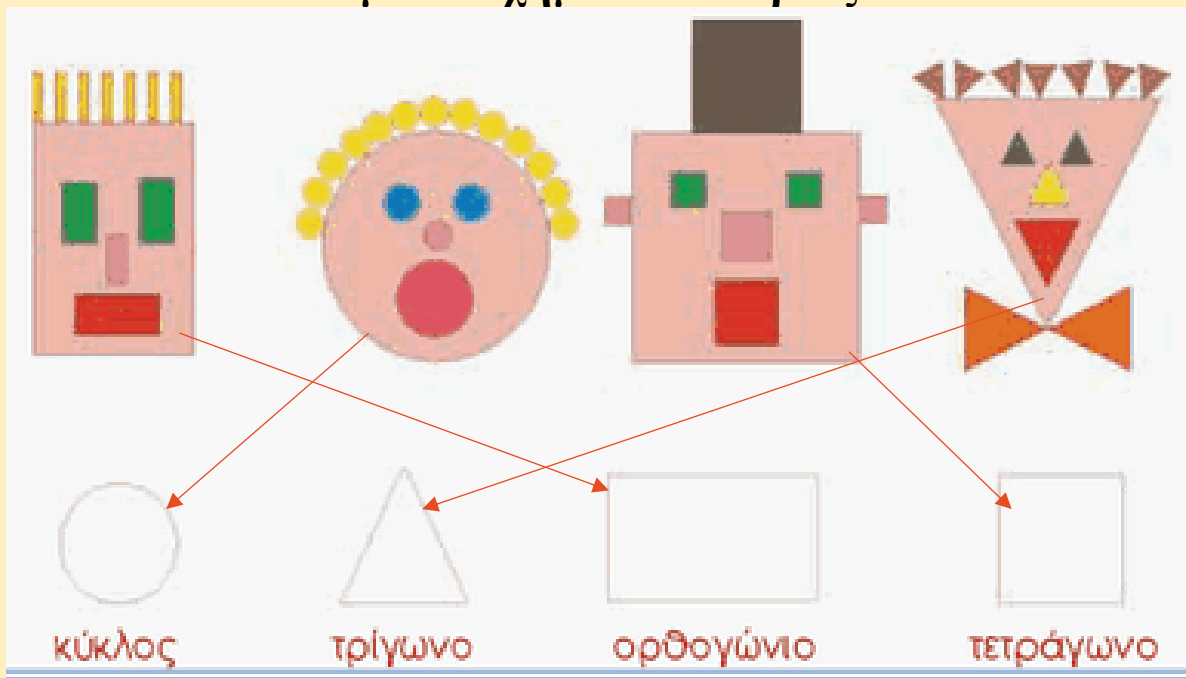
☺ Φτιάξε σε ένα χαρτί ή στο τετράδιό σου τα σχήματα που βλέπεις.



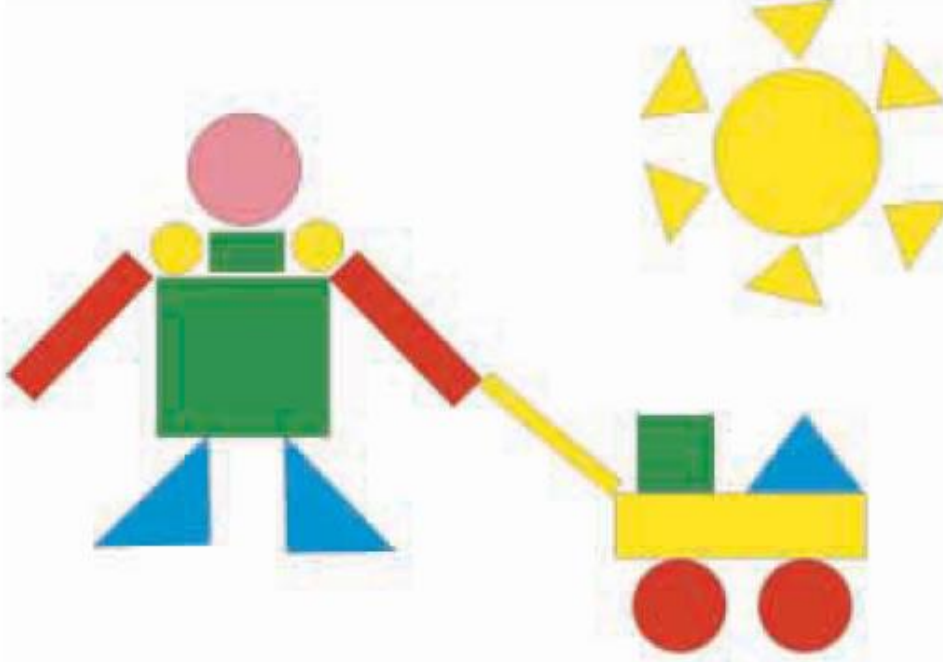
☺ Βρες τα ίδια σχήματα και ένωσε τα.







☺ Δες προσεκτικά τις εικόνες. Ένωσε την κάθε εικόνα με το σχήμα που ταιριάζει.



☺ Μέτρησε τα σχήματα. Γράψε πόσα τετράγωνα, τρίγωνα, κύκλους ή ορθογώνια βλέπεις στην εικόνα.



			
τετράγωνα	τρίγωνα	κύκλοι	ορθογώνια

2 9 6 5

☺ Φτιάξε κι εσύ μια δική σου εικόνα με σχήματα, στο τετράδιο ή σε ένα φύλλο χαρτί. Δες τις εικόνες για να πάρεις ιδέες.

