

Σχολείο: 7^ο Δημοτικό Σχολείο Ασπρούργου
Τάξη: Α

ΜΑΘΗΜΑ: ΜΑΘΗΜΑΤΙΚΑ
ΑΡΙΘΜΟΙ-ΜΕΤΡΗΣΗ-ΠΡΟΣΘΕΣΗ
Με καλοκαιρινή διάθεση...

1 2 3 4 5 6 7 8 9 10
11 12 13 14 15 16 17 18 19 20

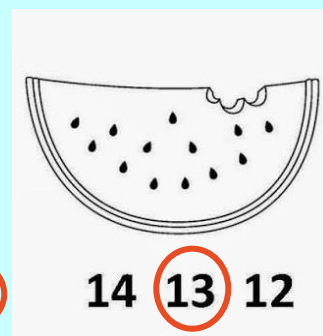

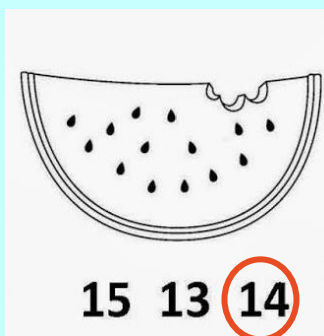
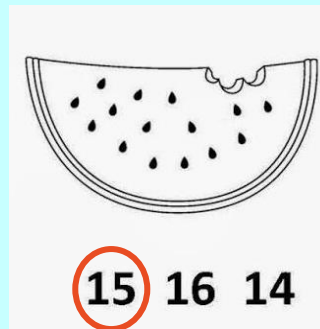
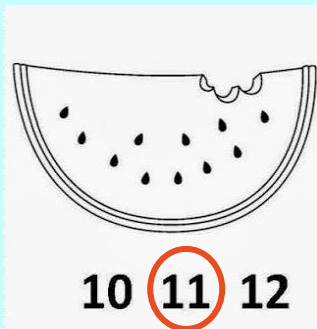
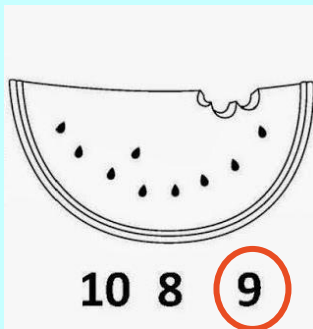
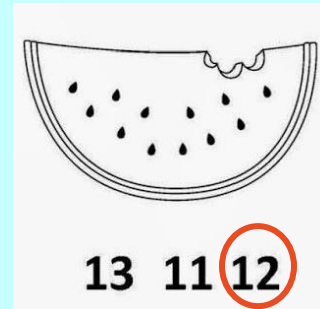
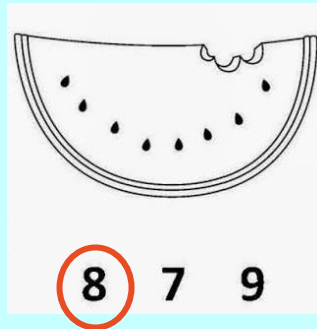

Όνομα: _____

Επίθετο: _____

☺ Γράψε τον προηγούμενο αριθμό στην αριστερή στήλη και τον επόμενο στη δεξιά.

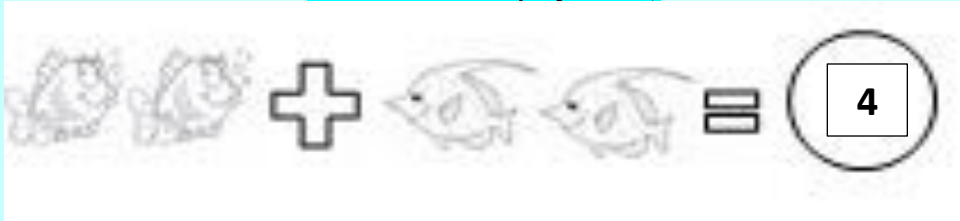
ΠΡΙΝ		ΜΕΤΑ	
<input type="text" value="2"/>	3	1	<input type="text" value="2"/>
<input type="text" value="5"/>	6	3	<input type="text" value="4"/>
<input type="text" value="1"/>	2	5	<input type="text" value="6"/>
<input type="text" value="6"/>	7	2	<input type="text" value="3"/>
<input type="text" value="8"/>	9	4	<input type="text" value="5"/>
<input type="text" value="7"/>	8	6	<input type="text" value="7"/>
<input type="text" value="4"/>	5	10	<input type="text" value="11"/>
<input type="text" value="11"/>	12	11	<input type="text" value="12"/>

☺ Πόσα κουκουτσάκια έχει κάθε φέτα καρπούζι; Διάλεξε το σωστό αριθμό.



☺ Πόσα είναι μαζί τα πλάσματα της θάλασσας, κάθε φορά; Γράψε το σωστό αριθμό, αφού πρώτα κάνεις την πρόσθεση.

2 ψαράκια συνάντησαν άλλα 2 ψαράκια και κολύμπησαν μαζί. Πόσα είναι όλα τα ψαράκια;



3 μέδουσες βρήκαν στο βυθό άλλες 2 φίλες τους. Πόσες είναι όλες μαζί;



1 θαλάσσιο αλογάκι ήταν μόνο του και αποφάσισε να κάνει παρέα με άλλα 4. Πόσα είναι όλα μαζί;



10 κοχύλια βρέθηκαν πάνω στην άμμο μαζί με άλλα 8. Πόσα είναι όλα μαζί;

