
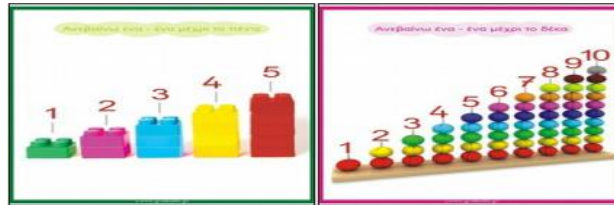


Σχολείο: 7^ο Δημοτικό Σχολείο Ασπροπύργου

Τάξη: Α

ΜΑΘΗΜΑ: ΜΑΘΗΜΑΤΙΚΑ

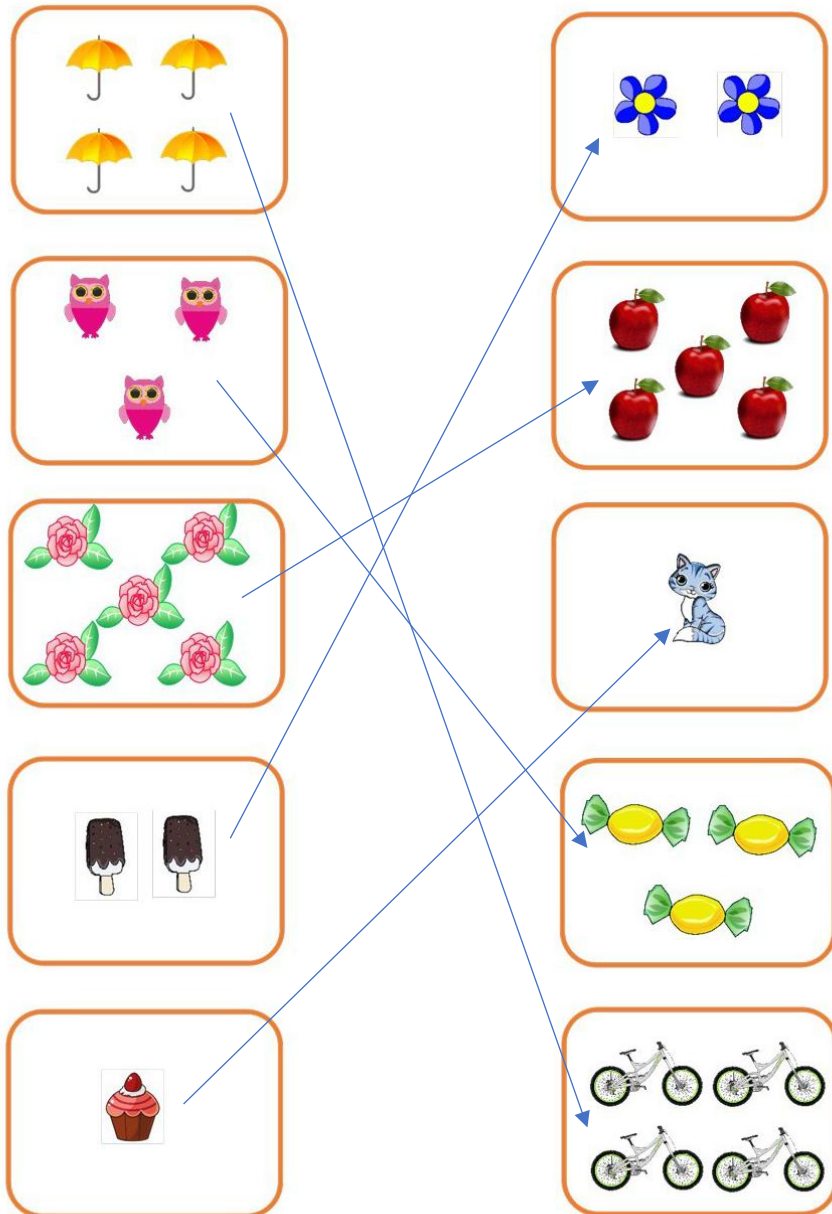
Σε αυτό το φυλλάδιο θα θυμηθούμε ξανά τους αριθμούς από το 1 έως το 10... ☺



Εργασία 1: Ένωσε με γραμμούλα όσα κουτάκια έχουν ίδιο αριθμό αντικειμένων.

☺ Πόσα είναι τα πραγματάκια σε κάθε κουτάκι; Μπορείς να βάλεις μαζί αυτά που είναι ίσα;

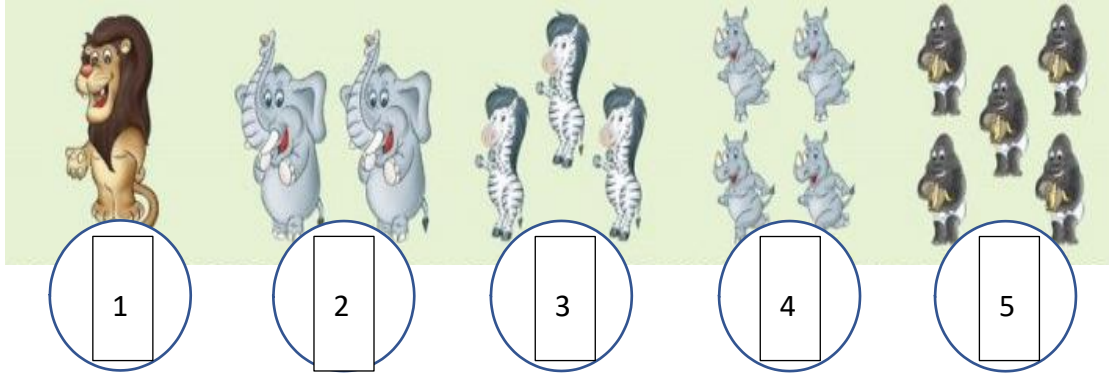
ΛΥΣΗ:



Εργασία 2: Βρες πόσα είναι τα ζώακια.

☺ Πόσα είναι τα ζώακια που βρίσκονται πάνω από κάθε κυκλάκι;

ΛΥΣΗ:



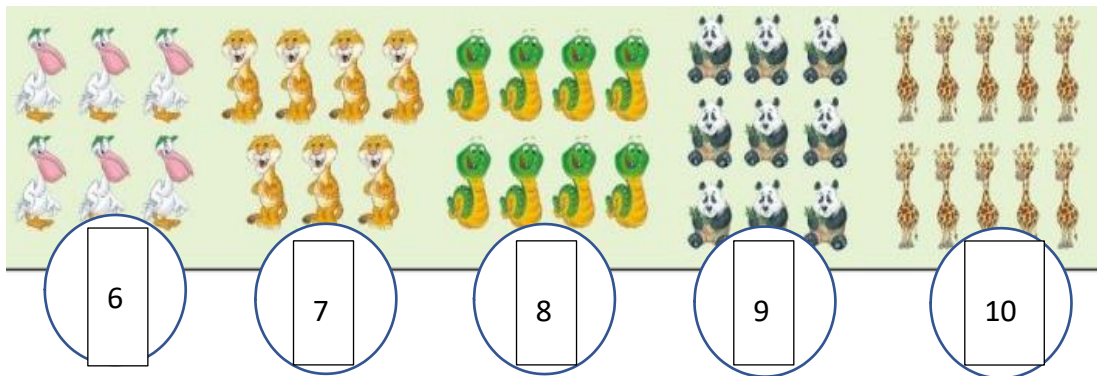
1

2

3

4

5



6

7

8

9

10

Εργασία 3: Κύκλωσε ή χρωμάτισε το σωστό αριθμό.

☺ Μπορείς να διαλέγεις το σωστό αριθμό που δείχνει πόσα πράγματα είναι μέσα στο κάθε κουτάκι;

ΛΥΣΗ:

