
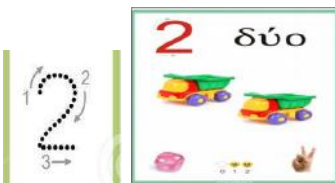
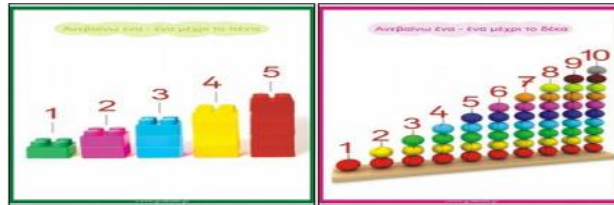


Σχολείο: 7<sup>ο</sup> Δημοτικό Σχολείο Ασπροπύργου

Τάξη: Α


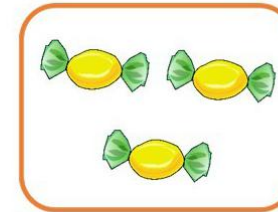




## ΜΑΘΗΜΑ: ΜΑΘΗΜΑΤΙΚΑ

Σε αυτό το φυλλάδιο θα θυμηθούμε ξανά τους αριθμούς από το 1 έως το 10... ☺



**Εργασία 1: Ένωσε με γραμμούλα όσα κουτάκια έχουν ίδιο αριθμό αντικειμένων.**

☺ Πόσα είναι τα πραγματάκια σε κάθε κουτάκι; Μπορείς να βάλεις μαζί αυτά που είναι ίσα;



## Εργασία 2: Βρες πόσα είναι τα ζώακια.

☺ Πόσα είναι τα ζώακια που βρίσκονται πάνω από κάθε κυκλάκι;

1.

2.

3.

4.

5.

1.

2.

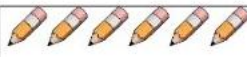
3.


4.


5.


### Εργασία 3: Κύκλωσε ή χρωμάτισε το σωστό αριθμό.


☺ Μπορείς να διαλέξεις το σωστό αριθμό που δείχνει πόσα πράγματα είναι μέσα στο κάθε κουτάκι;


0 1 2 3 4 5 6 7 8 9 10 


0 1 2 3 4 5 6 7 8 9 10 


0 1 2 3 4 5 6 7 8 9 10 


0 1 2 3 4 5 6 7 8 9 10 

0 1 2 3 4 5 6 7 8 9 10 

0 1 2 3 4 5 6 7 8 9 10 

0 1 2 3 4 5 6 7 8 9 10 

0 1 2 3 4 5 6 7 8 9 10 

0 1 2 3 4 5 6 7 8 9 10 

0 1 2 3 4 5 6 7 8 9 10 