

Μαθηματικά: Φύλλο εργασίας (8)



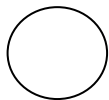

Θυμάμαι τα σχήματα:

- ρόμβος
- κύκλος
- τετράγωνο
- ορθογώνιο
- τρίγωνο




Σχήματα

1. Να μετρήσεις τα γεωμετρικά σχήματα στο ανθρωπάκι και να γράψεις πόσα υπάρχουν από κάθε είδος:



3



9



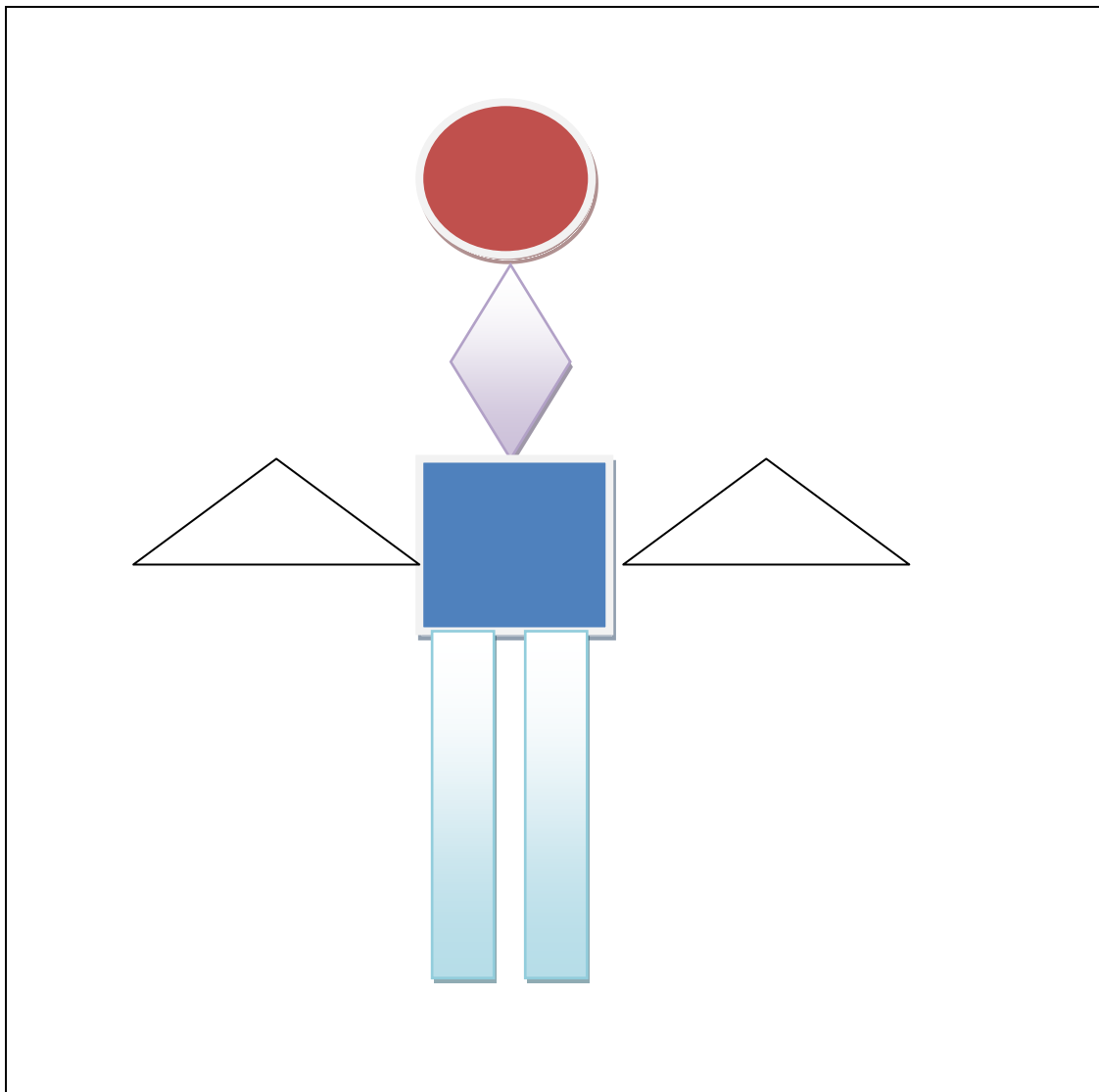
1



1

2. Να σχηματίσεις ένα ανθρωπάκι χρησιμοποιώντας για μέρη του σώματος τα παρακάτω σχήματα. Έπειτα να το χρωματίσεις.

- Κεφάλι: κύκλος
- Λαιμός: Ρόμβος
- Σώμα: τετράγωνο
- Χέρια: τρίγωνα
- Πόδια: ορθογώνια



ΔΕ ΜΕΝΟΥΜΕ ΣΤΑΣΙΜΟΙ

Οι δάσκαλοι της Γ τάξης: Καζαντζής Θεόδωρος, Αδαμοπούλου Ελένη, Ντελή Βάγια