


Μαθηματικά:  Φύλλο εργασίας (8)


Θυμάμαι τα σχήματα:

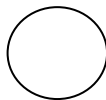

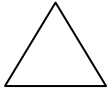

- ρόμβος
- κύκλος
- τετράγωνο
- ορθογώνιο
- τρίγωνο

Σχήματα



1. Να μετρήσεις τα γεωμετρικά σχήματα στο ανθρωπάκι και να γράψεις πόσα υπάρχουν από κάθε είδος:



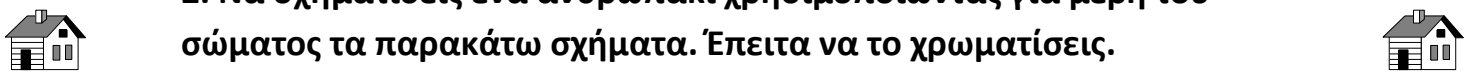

 
 
 



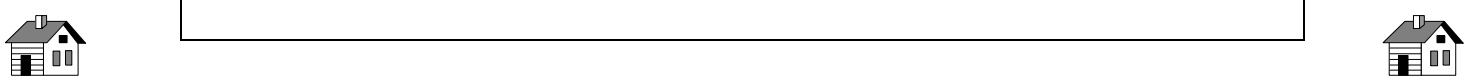



Τάξη: Γ



2. Να σχηματίσεις ένα ανθρωπάκι χρησιμοποιώντας για μέρη του σώματος τα παρακάτω σχήματα. Έπειτα να το χρωματίσεις.



- Κεφάλι: κύκλος
- Λαιμός: Ρόμβος
- Σώμα: τετράγωνο
- Χέρια: τρίγωνα
- Πόδια: ορθογώνια



Οι δάσκαλοι της Γ τάξης: Καζαντζής Θεόδωρος, Αδαμοπούλου Ελένη, Ντελή Βάγια