



Τάξη: Γ



Μαθηματικά:  Φύλλο εργασίας (4)



1. Να κάνεις τις παρακάτω προσθέσεις με τον νου:

7+3= 10

6+7= 13

6+4= 10

10+4= 14

5+2= 7

8+8= 16

9+9= 18

10+9= 19

20+30= 50

42+20= 62

27+32= 59

57+23= 80

40+50= 90

30+17= 47

66+33= 99

68+34= 102



2. Να κάνεις τις παρακάτω αφαιρέσεις με τον νου:

7-2= 5

6-3= 3

8-6= 2

15-7= 8

5-3= 2

8-8= 0

9-7= 2

19-8= 11

50-30= 20

42-20= 22

27-14= 13

52-24= 28

40-30= 10

34-10= 24

66-33= 33

68-39= 29



3. Να λύσεις τα παρακάτω προβλήματα:

α) Ένας μανάβης είχε 54 κιλά πατάτες. Πούλησε τα 21 κιλά πατάτες. Πόσα κιλά του έμειναν;

ΛΥΣΗ


54 - 21 = 33

Οι δάσκαλοι της Γ τάξης: Καζαντζής Θεόδωρος, Αδαμοπούλου Ελένη, Ντελή Βάγια





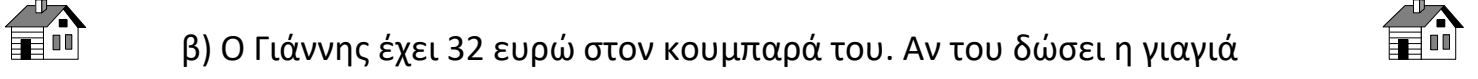
Τάξη: Γ



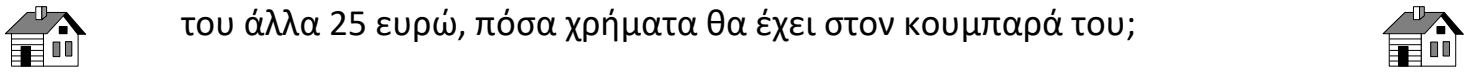
ΑΠΑΝΤΗΣΗ



Του έμειναν 33 κιλά πατάτες.



β) Ο Γιάννης έχει 32 ευρώ στον κουμπαρά του. Αν του δώσει η γιαγιά του άλλα 25 ευρώ, πόσα χρήματα θα έχει στον κουμπαρά του;



ΛΥΣΗ



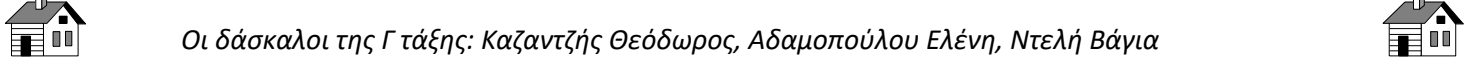
$$32 + 25 = 57$$



ΑΠΑΝΤΗΣΗ



Θα έχει στον κουμπαρά του 57 ευρώ.



Οι δάσκαλοι της Γ τάξης: Καζαντζής Θεόδωρος, Αδαμοπούλου Ελένη, Ντελή Βάγια

