


Επαναληπτικό Μαθηματικά Ε' Τάξη

Άσκηση 1:

Όργανο μέτρησης 1



Όργανο μέτρησης 2



Να γράψεις τις ομοιότητες και τις διαφορές των δύο οργάνων μέτρησης:

Ομοιότητες:

Διαφορές:

Άσκηση 2: Να υπολογίσεις την περίμετρο καθενός από τα παρακάτω κανονικά πολύγωνα.



2 δεκ.

$\Pi = \dots\dots\dots$



3 μ.

$\Pi = \dots\dots\dots$



5 εκ.

$\Pi = \dots\dots\dots$



6 χιλ.

$\Pi = \dots\dots\dots$


1ο Πρόβλημα




Δύο χωράφια έχουν συνολική επιφάνεια 16 στρέμ. Η επιφάνεια του ενός είναι 3 στρέμ. μεγαλύτερη από του άλλου. Ποια είναι η τιμή πώλησης κάθε χωραφιού, αν κάθε τετραγωνικό μέτρο τους πουλιέται 2,35 €;

Λύση:

Να συμπληρώσεις τους πίνακες:

	Μήκος	Πλάτος	Περίμετρος	Εμβαδό
	6 μ.	8μ.		
	3 εκ.		12εκ.	
	7 δεκ.			56τ. δεκ.
		9χιλ.	30χιλ.	
	12μ.			180τ. μ.

	Μήκος πλευράς τετραγώνου	Περίμετρος	Εμβαδό
	5μ.		
		24εκ.	
			49τ. δεκ.